

Konal(a) zkoušku

Vyloučen(a)

Nepřítomen(na) či nedokončil(a)

# MATEMATIKA +

List 1 ze 2

## DIDAKTICKÝ TEST - STRANA 1-4

1

2

3

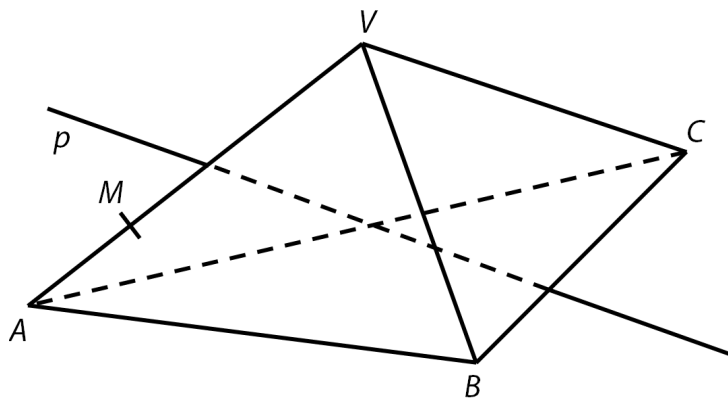
4

Uvedte postup řešení.

5

6

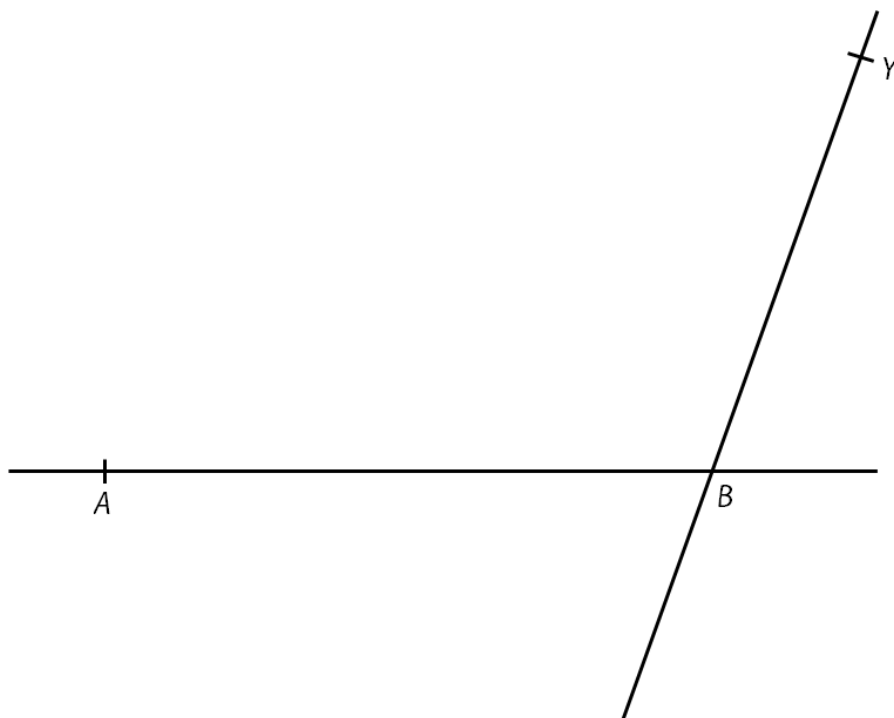
7 Obtáhněte všechny čáry propisovací tužkou.



8 Obtáhněte všechny čáry a křivky propisovací tužkou.

8.1

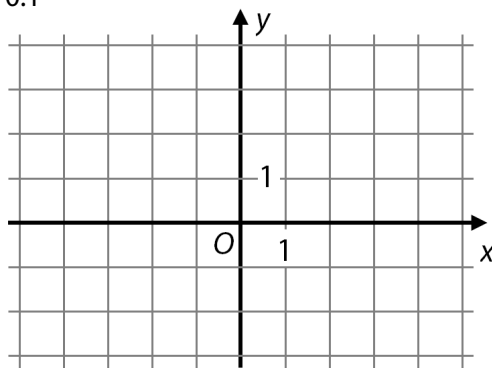
8.2



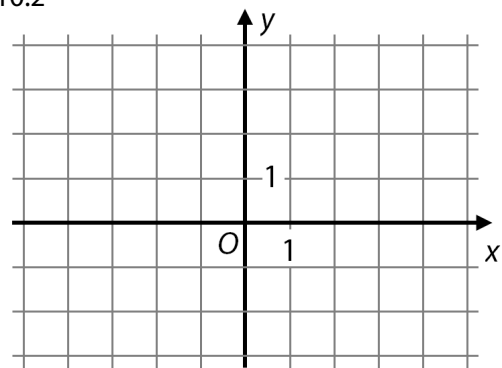
9 Uvedte postup řešení.

10 Obtáhněte všechny čáry a křivky propisovací tužkou.

10.1



10.2



11 Uvedte postup řešení.

12

Uvedte postup řešení.

12.1

12.2

12.3

13

A B C D E F

13.1

13.2

13.3

A B C D E F

14.1

14.2

14.3

A B C D E

15

16

A B C D E

17

18

19

20

21

22

23 A N

23.1

23.2

23.3